










Рассмотрите фотографию лошади породы лошадь Скалистых гор и выполните задания. Выберите характеристики, соответствующие внешнему строению лошади, по следующему плану: окрас (масть), постановка головы, форма головы.



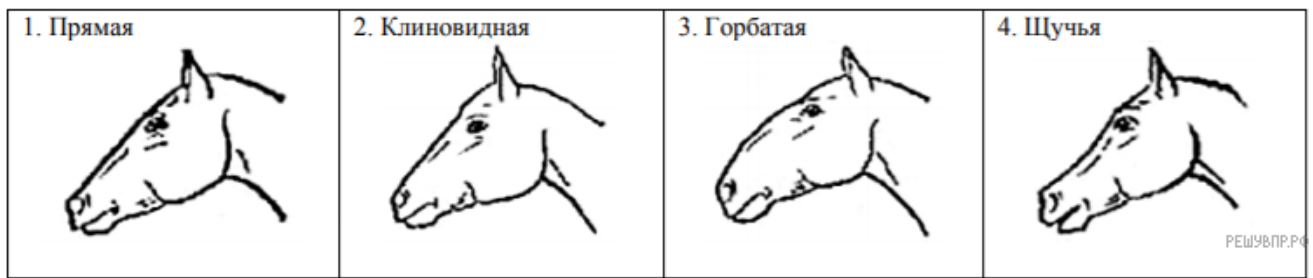
А. Окрас

<p>1) серая (белая)</p> 	<p>2) рыжая (коричневая)</p> 	<p>3) воронья (чёрная)</p> 
<p>4) мышастая (серая с чёрным)</p> 	<p>5) гнедая и саврасая (рыжая/светло-жёлтая с чёрным)</p> 	<p>6) соловая и игреневая (с белой гривой и хвостом)</p> 
<p>7) чубарая (белая с мелкими пятнами)</p> 	<p>8) пегая (белая с крупными пятнами)</p> 	<p>9) «в яблоках» (со светлыми мелкими пятнами)</p> 

Б. Масть

<p>1. Длинная прямая шея ($AB < BC$)</p> 	<p>2. Длинная лебединая шея</p> 	<p>3. Длинная оленья шея</p> 	<p>4. Короткая шея ($AB \geq BC$)</p> 
--	---	---	--

В. Форма головы (по профилю)



Запишите в таблицу выбранные цифры под соответствующими буквами.

Ответ:

А	Б	В
<input type="text"/>	<input type="text"/>	<input type="text"/>