







Рассмотрите фотографию кошки породы **петерболд** и выполните задания.



Выберите характеристики, соответствующие внешнему строению кошки, по следующему плану: окрас шерсти, форма ушей, форма головы.




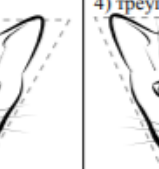
А. Окрас

1) однотонный 	2) биколор (с белыми пятнами) 	3) черепаховый (трёхцветный) 	4) табби 
5) пойнт 	6) типпи (волос окрашен не полностью, основание остаётся белым) 		

Б. Форма ушей

1) стоячие остроконечные 	2) стоячие округлые 	3) прилегающие/загнутые вперёд 	4) загнутые назад 
---	--	--	--

В. Форма головы

1) круглая 	2) трапецевидная 	3) клиновидная 	4) треугольная 
---	---	---	--

Запишите, изображённая на какой из фотографий собака более подходит под стандарт породы джек-рассел-терьер.

Запишите в таблицу выбранные цифры под соответствующими буквами.

Ответ:

А	Б	В
<input type="text"/>	<input type="text"/>	<input type="text"/>