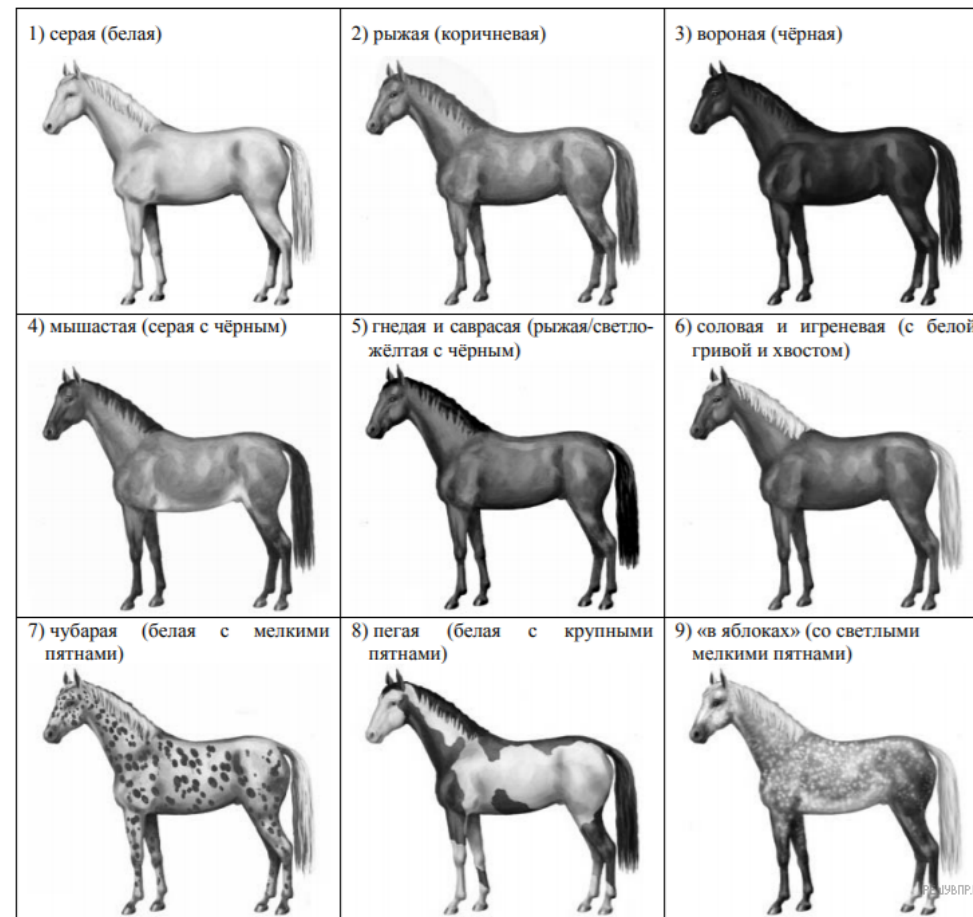


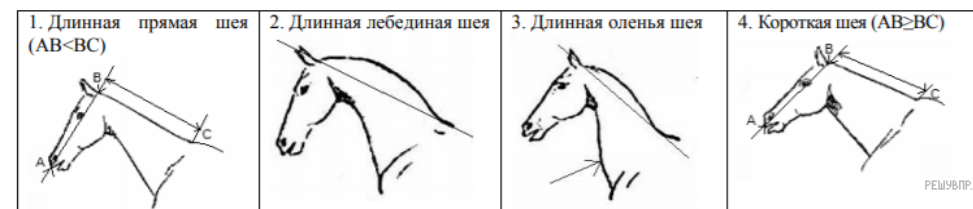
Рассмотрите фотографию лошади породы **кабардинская** и выполните задания. Выберите характеристики, соответствующие внешнему строению лошади, по следующему плану: окрас (масть), постановка головы, форма головы.



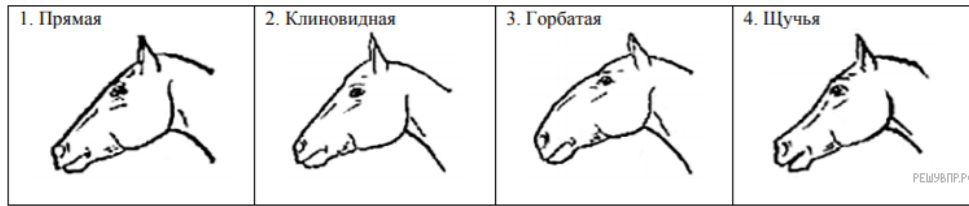
А. Окрас



Б. Постановка головы



В. Форма головы (по профилю)



Запишите в таблицу выбранные цифры под соответствующими буквами.

Ответ:

А	Б	В
<input type="text"/>	<input type="text"/>	<input type="text"/>