










Рассмотрите фотографию коричневой лошади породы **владимирский тяжеловоз** и выполните задания. Выберите характеристики, соответствующие внешнему строению лошади, по следующему плану: окрас (масть), постановка головы, форма головы.



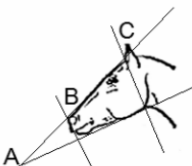
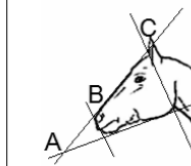

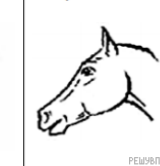
**А. Окрас**

1) серая (белая) 	2) рыжая (коричневая) 	3) вороная (чёрная) 
4) мышастая (серая с чёрным) 	5) гнедая и саврасая (коричневая с чёрным) 	6) игреневая и соловая (коричневая с белым) 
7) чубарая (с мелкими тёмными пятнами) 	8) пегая (с крупными пятнами) 	9) «в яблоках» (с мелкими светлыми пятнами) 

**Б. Масть**

1. Длинная прямая шея ( $AB < BC$ ) 	2. Длинная лебединая шея 	3. Длинная оленья шея 	4. Короткая шея ( $AB \geq BC$ ) 
----------------------------------------------------------------------------------------------------------------------------	-----------------------------------------------------------------------------------------------------------------	--------------------------------------------------------------------------------------------------------------	-------------------------------------------------------------------------------------------------------------------------

**В. Форма головы (по профилю)**

1. Прямая длинная ( $AB = BC$ ) 	2. Прямая клиновидная ( $AB < BC$ ) 	3. Горбоносая 	4. Щучья 
------------------------------------------------------------------------------------------------------------------------	----------------------------------------------------------------------------------------------------------------------------	------------------------------------------------------------------------------------------------------	-------------------------------------------------------------------------------------------------

Запишите в таблицу выбранные цифры под соответствующими буквами.

Ответ: