


1. Рассмотрите фотографию лошади породы **орловский рысак** и выполните задания. Выберите характеристики, соответствующие внешнему строению лошади, по следующему плану: окрас (масть), постановка головы, форма головы.



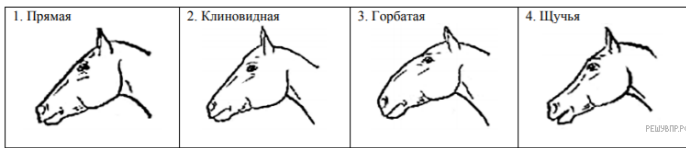
А. Окрас



Б. Масть



В. Форма головы (по профилю)



Запишите в таблицу выбранные цифры под соответствующими буквами.

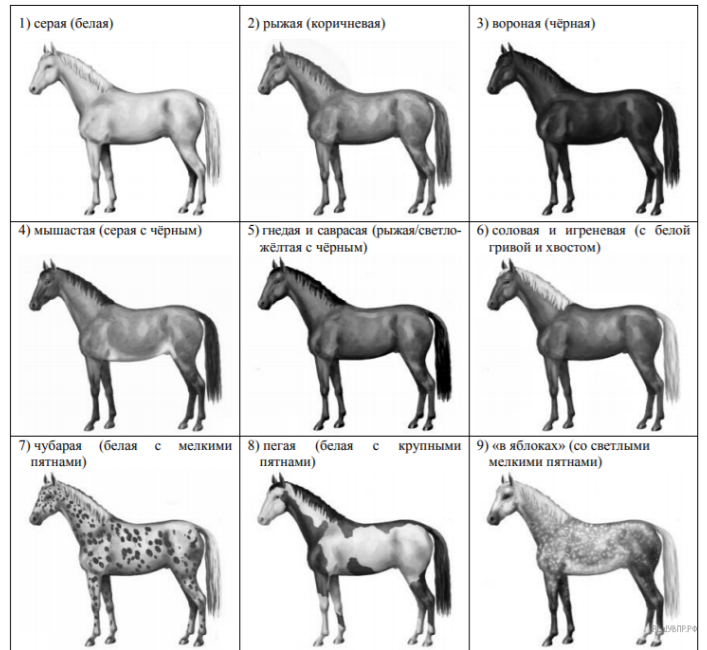
Ответ:

| А                    | Б                    | В                    |
|----------------------|----------------------|----------------------|
| <input type="text"/> | <input type="text"/> | <input type="text"/> |

2. Рассмотрите фотографию лошади породы лошадь Скалистых гор и выполните задания. Выберите характеристики, соответствующие внешнему строению лошади, по следующему плану: окрас (масть), постановка головы, форма головы.



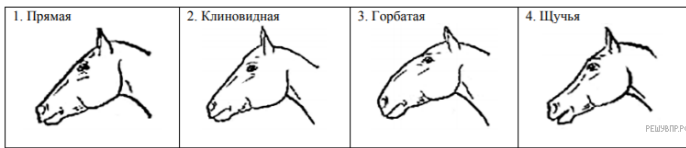
А. Окрас



Б. Масть



В. Форма головы (по профилю)



Запишите в таблицу выбранные цифры под соответствующими буквами.

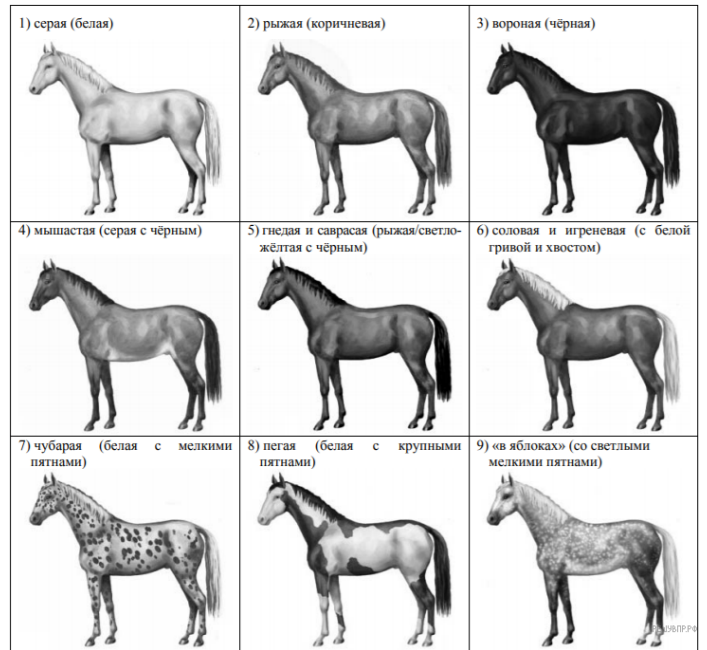
Ответ:

| А                    | Б                    | В                    |
|----------------------|----------------------|----------------------|
| <input type="text"/> | <input type="text"/> | <input type="text"/> |

3. Рассмотрите фотографию лошади породы **кабардинская** и выполните задания. Выберите характеристики, соответствующие внешнему строению лошади, по следующему плану: окрас (масть), постановка головы, форма головы.



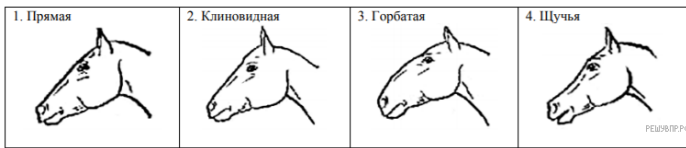
А. Окрас



Б. Постановка головы



В. Форма головы (по профилю)



Запишите в таблицу выбранные цифры под соответствующими буквами.


Ответ:

| А                    | Б                    | В                    |
|----------------------|----------------------|----------------------|
| <input type="text"/> | <input type="text"/> | <input type="text"/> |

4. Рассмотрите фотографию коричневой лошади породы **ахалтекинская** с чёрными ногами, гривой, хвостом и выполните задания. Выберите характеристики, соответствующие внешнему строению лошади, по следующему плану: окрас (масть), постановка головы, форма головы.



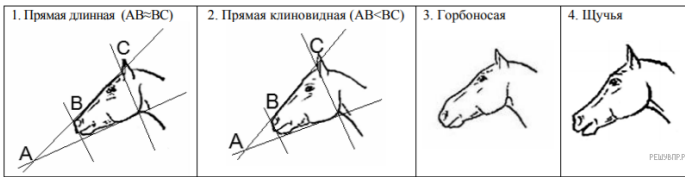
А. Окрас



Б. Масть



В. Форма головы (по профилю)



Запишите в таблицу выбранные цифры под соответствующими буквами.


Ответ:

| А                    | Б                    | В                    |
|----------------------|----------------------|----------------------|
| <input type="text"/> | <input type="text"/> | <input type="text"/> |

5. Рассмотрите фотографию коричневой лошади породы **кабардинская** и выполните задания. Выберите характеристики, соответствующие внешнему строению лошади, по следующему плану: окрас (масть), постановка головы, форма головы.



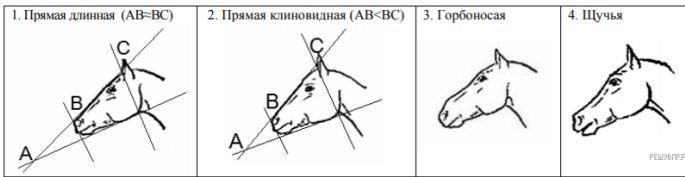
А. Окрас



Б. Масть



В. Форма головы (по профилю)



Запишите в таблицу выбранные цифры под соответствующими буквами.


Ответ:

|                      |                      |                      |
|----------------------|----------------------|----------------------|
| А                    | Б                    | В                    |
| <input type="text"/> | <input type="text"/> | <input type="text"/> |

6. Рассмотрите фотографию коричневой лошади породы **владимирский тяжеловоз** и выполните задания. Выберите характеристики, соответствующие внешнему строению лошади, по следующему плану: окрас (масть), постановка головы, форма головы.



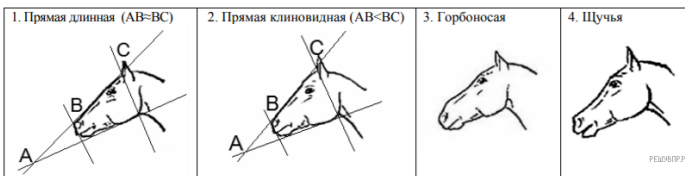
А. Окрас



Б. Масть



В. Форма головы (по профилю)



Запишите в таблицу выбранные цифры под соответствующими буквами.


Ответ:

| А | Б | В |
|---|---|---|
|   |   |   |

7. Рассмотрите фотографию коричневой лошади породы **орловский рысак** и выполните задания. Выберите характеристики, соответствующие внешнему строению лошади, по следующему плану: окрас (масть), постановка головы, форма головы.



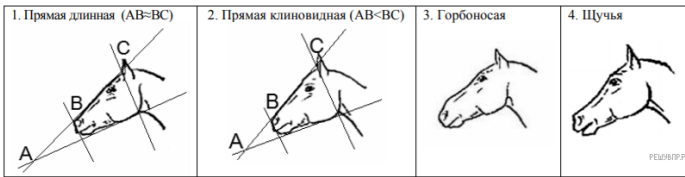
А. Окрас



Б. Масть



В. Форма головы (по профилю)



Запишите в таблицу выбранные цифры под соответствующими буквами.

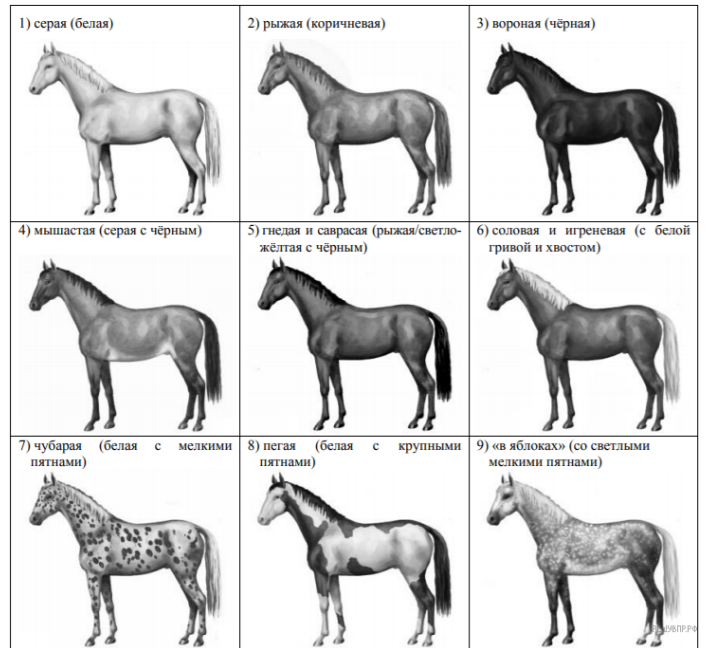
Ответ:

| А                    | Б                    | В                    |
|----------------------|----------------------|----------------------|
| <input type="text"/> | <input type="text"/> | <input type="text"/> |

8. Рассмотрите фотографию чёрной лошади породы андалузская и выполните задания. Выберите характеристики, соответствующие внешнему строению лошади, по следующему плану: окрас (масть), постановка головы, форма головы.



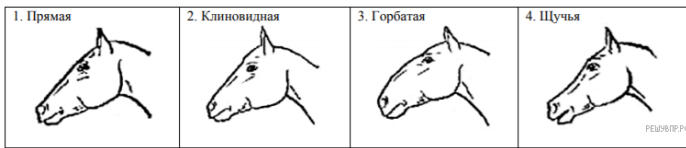
А. Окрас



Б. Масть



В. Форма головы (по профилю)




Запишите в таблицу выбранные цифры под соответствующими буквами.


Ответ:

|                      |                      |                      |
|----------------------|----------------------|----------------------|
| А                    | Б                    | В                    |
| <input type="text"/> | <input type="text"/> | <input type="text"/> |

9. Рассмотрите фотографию коричневой лошади породы **орловский рысак** и выполните задания. Выберите характеристики, соответствующие внешнему строению лошади, по следующему плану: окрас (масть), постановка головы, форма головы.



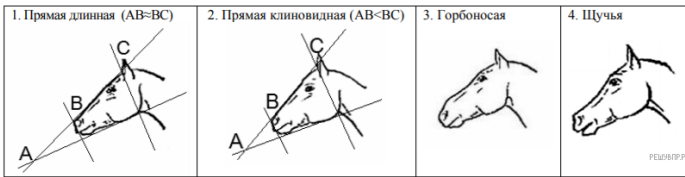
А. Окрас



Б. Масть



В. Форма головы (по профилю)



Запишите в таблицу выбранные цифры под соответствующими буквами.


Ответ:

| А                    | Б                    | В                    |
|----------------------|----------------------|----------------------|
| <input type="text"/> | <input type="text"/> | <input type="text"/> |

10. Рассмотрите фотографию коричневой лошади породы **кабардинская** и выполните задания. Выберите характеристики, соответствующие внешнему строению лошади, по следующему плану: окрас (масть), постановка головы, форма головы.



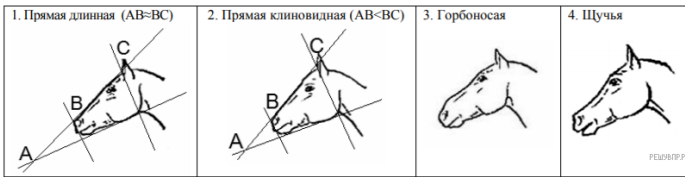
А. Окрас



Б. Масть



В. Форма головы (по профилю)




Запишите в таблицу выбранные цифры под соответствующими буквами.


Ответ:

| А | Б | В |
|---|---|---|
|   |   |   |

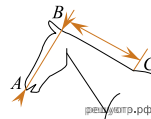
11. Рассмотрите фотографию коричневой лошади породы **кабардинская** с чёрными ногами, хвостом и гривой и выполните задания. Выберите характеристики, соответствующие внешнему строению лошади, по следующему плану: окрас (масть), постановка головы, форма головы.



А. Окрас



Б. Масть



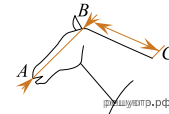
1. Длинная прямая шея (AB < BC)



2. Длинная лебединая шея

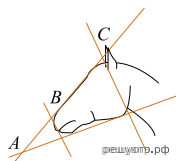
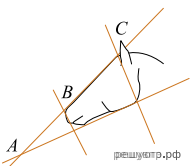


3. Длинная оленья шея



4. Короткая шея ( $AB > BC$ )

**В. Форма головы (по профилю)**



1. Прямая длинная ( $AB \approx BC$ )    2. Прямая клиновидная ( $AB < BC$ )    3. Горбатая



4. Щучья

Запишите в таблицу выбранные цифры под соответствующими буквами.

Ответ:

| А | Б | В |
|---|---|---|
|   |   |   |