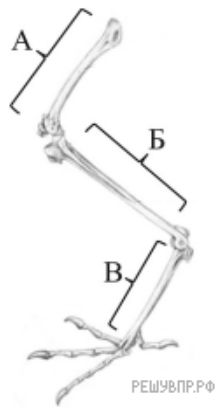
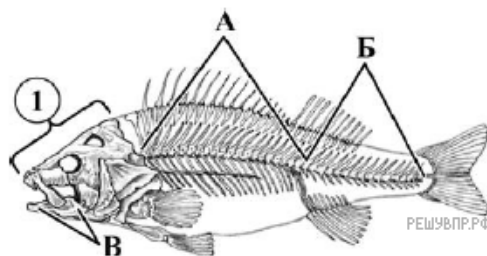


Рассмотрите рисунок.



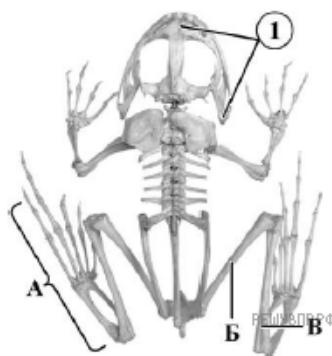
1. Какая конечность птицы изображена на рисунке?

Рассмотрите рисунок.



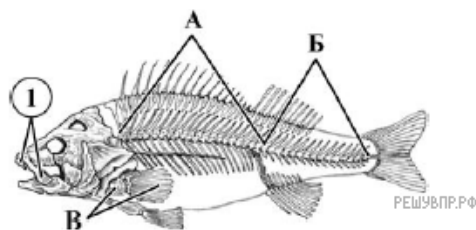
2. Как называется часть осевого скелета рыбы, которая на рисунке обозначена цифрой 1?

Рассмотрите рисунок.



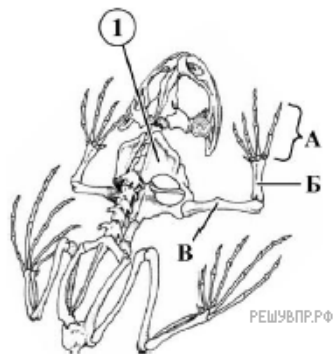
3. Какая часть скелета лягушки обозначена на рисунке цифрой 1?

Рассмотрите рисунок.



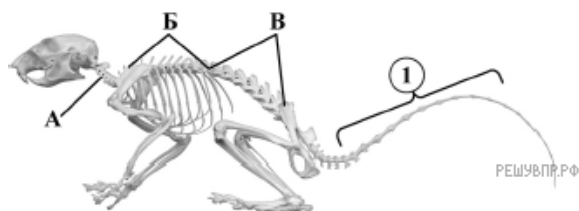
4. Как называется часть осевого скелета рыбы, которая на рисунке обозначена на рисунке цифрой 1?

Рассмотрите рисунок.



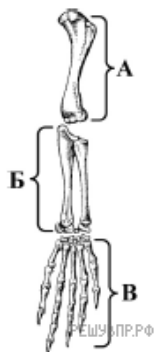
5. К какому поясу относится кость скелета жабы, обозначенная на рисунке цифрой 1?

Рассмотрите рисунок.



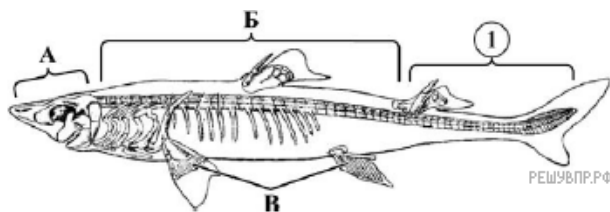
6. Какой отдел скелета позвоночника полевой мыши обозначен на рисунке цифрой 1?

Рассмотрите рисунок.



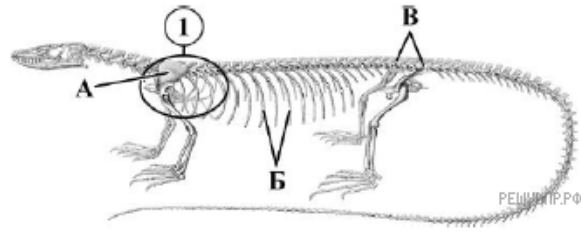
7. Какая часть скелета ящерицы изображена на рисунке?

Рассмотрите рисунок.



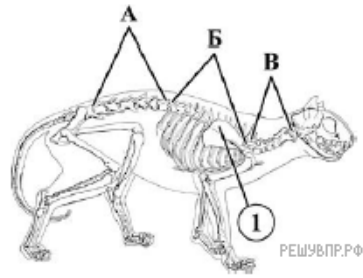
8. Как называется отдел осевого скелета акулы, который на рисунке обозначен цифрой 1?

Рассмотрите рисунок.



9. Как называется часть тела варана, обозначенная на рисунке цифрой 1?

Рассмотрите рисунок.



10. Рассмотрите рисунок. К какому поясу относится кость скелета кошки, обозначенная на рисунке цифрой 1?